

المستوى: الثاني من التعليم الابتدائي	المراقبة المستمرة 1 الدورة الثانية السنة الدراسية 2016/2015 مادة الرياضيات	
الملاحظة :	النقطة :	اسم التلميذ :

1- أتم كما في المثال : (3 نقط)

مِئَتَانِ وَ سِتَّةَ وَ خَمْسُونَ	200+50+6	256
.....	. + . + .	345
.....	8+60 +500
سَبْعِمِائَةٌ وَ سِتَّةَ	. +

2) ضَعِ الْعِدَدَ الْمُنَاسِبَ مَكَانَ النُّقْطِ : (2 نقط)

$$(6 \times 100) + (8 \times 10) + 2 = \dots$$

$$(3 \times .) + (5 \times .) + 2 = 35.$$



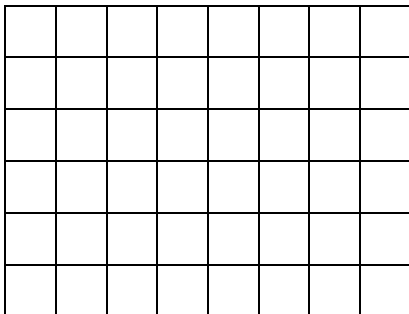
$$(. \times .) + (. \times 10) + 9 = 71.$$

3) أَرَسِّمْ مُرَبَّعًا وَ مُسْتَطِيلًا وَ مُثَلَّثًا : (3 نقط)

المثلث

المستطيل

المربع





Les Canaris d'or

(4) ضع < أو > : (2 نقط)

506.....499

736688

845.....847

398.....403

345.....674

985.....256

456.....429

754.....834